

5+

МАТЕМАТИКА

Вежбе за предшколце


Процени и изброј

Кад све завршиш,
залепи награду
налепницу!



Процени колико очију има свако чудовиште са слике. Запиши своју процену, а потом изброј очи да видиш да ли је процена била тачна.


1



Процена:

Број:


2



Процена:

Број:

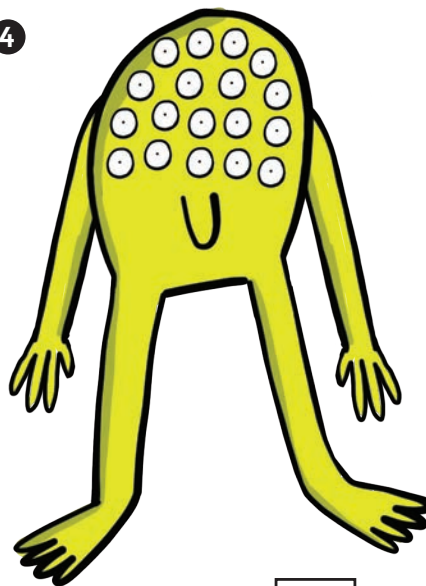
3



Процена:

Број:

4



Процена:

Број:

ОВАЕ
ЗАЛЕПИ
НАГРАДУ
НАЛЕПНИЦУ

Колико чарапа!

Сва ова чудовишта купују чарапе у продавници. Можеш ли да им помогнеш и избе-
реш кутију са бројем чарапа који одговара броју њихових ногу.

1

Имам 10 ногу!



2

Имам 40 ногу!



3

Имам 20 ногу!



4

Имам 30 ногу!




ОВДЕ
ЗАЛЕПИ
НАГРАДНУ
НАЛЕПНИЦУ

Бројање

Кад све завршиш,
залепи награду
налепницу!

Мара је научница која проучава животиње у савани. Сваки пут када наиђе на извор воде, она забележи колико се животиња ту окупило. Преброј колико је животиња поред извора и одговори на питања.

Извор А



1 Колико је укупно животиња поред извора А?


2 Да ли има више лавова или леопарда?

лавова / леопарда

3 Колико је леопарда поред извора А?

ОБЕ
ЗАЛЕПИ
НАГРАДУ
НАЛЕПНИЦУ

Извор Б



4. Колико је укупно животиња поред извора Б?

5. Да ли има више лавова или леопарда?


лавова / леопарда

6. Колико је животиња сваке врсте поред извора Б?

лавова:

слонова:

жирафа:



Мачји календар

Мачак Марко има много обавеза у марту. Залепи налепнице у складу са упутствима и помози му да убележи активности.

Кад све завршиш,
залепи награду
налепницу!




Март

| | | | | | | |
|----|----|----|----|----|----|----|
| | 1 | 2 | 3 | 4 | 5 | 6 |
| 7 | 8 | 9 | 10 | 11 | 12 | 13 |
| 14 | 15 | 16 | 17 | 18 | 19 | 20 |
| 21 | 22 | 23 | 24 | 25 | 26 | 27 |
| 28 | 29 | 30 | 31 | | | |

Списак:

15. март – сунчање
13. март – зачикивање пса
23. март – ветеринар
17. март – мјаукање на аутомобиле

12. март – јурење мишева 
29. март – стајање испред врата
7. март – пењање на дрво

Парни бројеви

Марко обожава да скаче по барицама кад га нико не види. Али он скаче само по онима са парним бројем. Обој те барице.



1

3

4

8

7

6

5

9

10

11

12

16

15

14

13

17

18

19

20

А сад упиши бројеве који недостају у табели, а одговарају Марковим барицама. Видиш ли неки образац?

| | | | | | | | | | |
|----|--|----|--|----|--|----|--|----|--|
| 1 | | 3 | | 5 | | 7 | | 9 | |
| 11 | | 13 | | 15 | | 17 | | 19 | |




Збир скупова

Кад све завршиш,
залепи наградну
налепницу!


Пастирица Маја броји своје овце. Она мора да преброји
колико је оваца на свакој ливади и колико их је укупно.

1




+ =

2



+ =

3



+ =



ОБЕ
ЗАЛЕПИ
НАГРАДНУ
НАЛЕПНИЦУ

Додавање до 10

Један пар ципела даје број 10. Залепи налепнице ципела на одговарајућим местима да добијеш број 10.

*  +  = 10 *

 +  = 10 *

 +  = 10 *

 +  = 10 *

 +  = 10 *

ОВДЕ
ЗАЛЕПИ
НАГРАДНУ
НАЛЕПНИЦУ

Бројеви у низу

Кад све завршиш,
залепи награду
налепницу!

Када су мајмунчићи опрали своје дресове, неки бројеви су се одлепили. Помози им и допиши бројеве који недостају.



Five rows of t-shirts hanging on a line, each row containing 10 t-shirts. The numbers on the t-shirts are as follows:

- Row 1 (Red t-shirts): 1, [blank], 3, [blank], [blank], 6, [blank], 8, [blank], [blank]
- Row 2 (Purple t-shirts): 11, 12, [blank], 14, [blank], [blank], 17, [blank], 19, [blank]
- Row 3 (Blue t-shirts): 21, [blank], [blank], 24, 25, [blank], [blank], 28, [blank], [blank]
- Row 4 (Orange t-shirts): 31, [blank], 33, 34, [blank], [blank], 37, [blank], [blank], 40
- Row 5 (Green t-shirts): 41, [blank], [blank], 44, [blank], [blank], 47, [blank], [blank], 50

ОВАЕ
ЗАЛЕПИ
НАГРАДУ
НАЛЕПНИЦУ

Бројање унапред

Помози муви да грицне храну која је остала после излета. Крећи се од почетног броја до оног на којем мува заврши лет.

1

почетак: 5 помера се за: 7 стаје на:




2

почетак: 8 помера се за: 3 стаје на:




3

почетак: 9 помера се за: 9 стаје на:



Шта раде
две муве у парку?
Једна лети,
друга зими!



ОБАВЕ
ЗАЛЕПИ
НАГРАДНУ
НАЛЕПНИЦУ


Бројање уназад

Кад све завршиш,
залепи награду
налепницу!

Крадљивац Коле иде од куће до куће и гледа шта може да украде. Број уназад да видиш која је кућа његова следећа мета, па запиши број у празном пољу.


1

почетак: 5 помера се за: 3 стаје на:




2

почетак: 14 помера се за: 7 стаје на:



3

почетак: 19 помера се за: 4 стаје на:




ОВАЕ
ЗАЛЕПИ
НАГРАДНУ
НАЛЕПНИЦУ


Одузимање

Крадљивац Коле је одлучио да украде неке предмете из замка. Прецртај оне предмете које је украо и забележи колико је предмета остало у замку.

① $5 - 4 = ?$



② $7 - 3 = ?$



③ $6 - 4 = ?$



④ $4 - 1 = ?$



ОБВЕ
ЗАЛЕПИ
НАГРАДНУ
НАЛЕПНИЦУ

Збирови

Попуни празна поља да добијеш тачне бројеве.

| | | | | |
|---|---|---|---|---|
| 2 | + | | = | 4 |
| + | | + | | + |
| 4 | + | | = | 4 |
| = | | = | | = |
| | + | 2 | = | |

| | | | | |
|---|---|---|---|---|
| 4 | + | 2 | = | |
| + | | + | | + |
| | + | 2 | = | 5 |
| = | | = | | = |
| 7 | + | | = | |



ОБВЕ
ЗАЛЕПИ
НАГРАДНУ
НАЛЕПНИЦУ