



Менса КЛИНЦИ

ВЕЖБАЈ МОЗАК

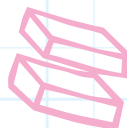
КЊИГА МОЗГАЛИЦА

СКЛЕКОВИ ЗА ВИЈУТЕ

Тревела
Ели Гилић



мала лагуна





УВОД

**Ова књига ће ти очас посла
довести моздане вијуге у форму.**

Шта кажеш на изазов за мозак? Цела књига је – од А до Ш! – испуњена мозгалицама и задацима који ће ставити твој начин размишљања и психичке способности на велику пробу!

Књига је подељена на три нивоа, а сваки садржи гомилу мозгалица. Требало би да почнеш од првог нивоа па да пређеш на други и коначно стигнеш до трећег – јер задаци постепено постају све тежи!



Шта мислиш
о томе да
покренемо тај
мозак?





Све што ти је потребно за решавање ових мозгалица јесте мозак – а повремено и оловка. Већина се може решити без писања по књизи, али има неколико где је потребно забележити нешто или преписати задатак ако делиш ову књигу с другарима.

На крају књиге су решења да провериш одговоре или гвирнеш ако се баш збуниш! Али нећемо тако да се играмо, зар не?

Хајде да почнемо!



ПРВИ НИВО: Супермозак



МОЗГАЛИЦА 1

Поређај бројеве и знаке за рачунске операције тако да добијеш написани резултат. Рецимо, у првом низу би резултат 6 могао да се добије овако: $1 \times 4 + 2$. Уколико је потребно, можеш користити и заграде.

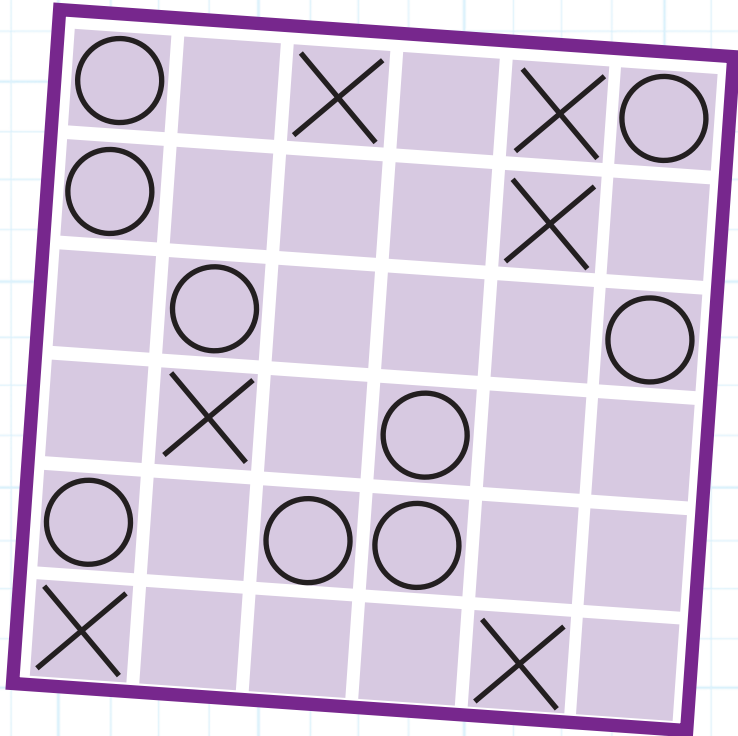
А

1	2	4	+	x	=	9
---	---	---	---	---	---	---

Б

2	3	3	+	x	=	12
---	---	---	---	---	---	----





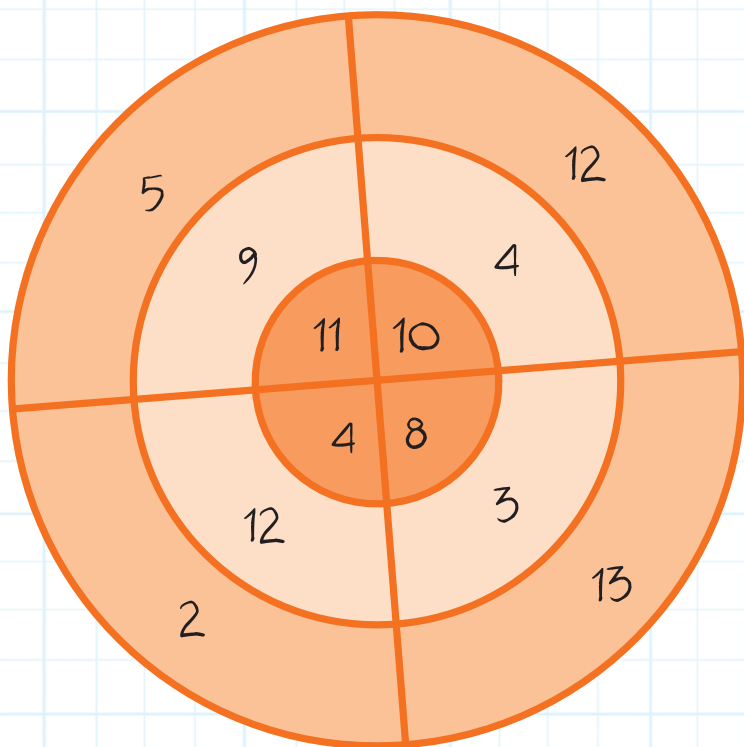
МОЗГАЛИЦА 2

Упиши X или O у свако празно поље, али пази да немаш више од четири узастопна X или O ни у једној водоравној, усправној или дијагоналној линији!

МОЗГАЛИЦА 3

Можеш ли да добијеш понуђене збирове сабирањем по једног броја из сваког прстена ове мете? Рецимо, можеш да добијеш збир 36 тако што ћеш сабрати број 11 из унутрашњег прстена, 12 из средњег и 13 из спољног прстена?

14 23 30





МОЗГАЛИЦА 4

Који је број следећи у низу?

3

5

8

12

17

23


?





МОЗТАЛИЦА 5

На свакој цигли ове пирамиде налази се број који представља збир бројева са две цигле одмах испод ње. Међутим, неколико бројева је скривено. Можеш ли да израчунаш који би број требало да стоји уместо црног знака питања на цигли на самом врху пирамиде?






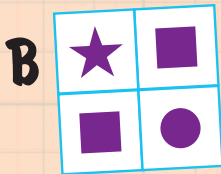


МОЗГАЛИЦА 6

На овој слици се налазе сва
слова азбуке, осим једног. Које
слово недостаје?

МОЗГАЛИЦА 7

Посматрај овај низ слова 30 секунди
па га покриј листом папира или
другом књигом. А сад запиши сва слова
којих се сећаш на другом папиру.
Затим поново погледај ову страницу да
провериш колико те памћење
добро служи.





МОЗГАЛИЦА 8

Који скуп облика, А, Б, В или Г, може да замени празна сива поља и заокружи образац?



МОЗГАЛИЦА 9

Колико коцки можеш да избројиш на овом цртежу? Не заборави да бројиш и оне „скривене“ позади јер коцке изнад њих сигурно не плутају у ваздуху!

