



Менса КЛИНЦИ

ВЕЖБАЈ МОЗАК

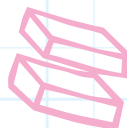
КЊИГА МОЗГАЛИЦА

БИЛДУЈЕМО ВИЈУТЕ

Тревела
Ели Гилић



мала лагуна




УВОД

**Ова књига ће ти очас посла
довести моздане вијуге у форму.**

Шта кажеш на изазов за мозак? Цела књига је – од А до Ш! – испуњена мозгалицама и задацима који ће ставити твој начин размишљања и психичке способности на велику пробу!

Књига је подељена на три нивоа, а сваки садржи гомилу мозгалица. Требало би да почнеш од првог нивоа па да пређеш на други и коначно стигнеш до трећег – јер задаци постепено постају све тежи!



Шта мислиш
о томе да
покренемо тај
мозак?





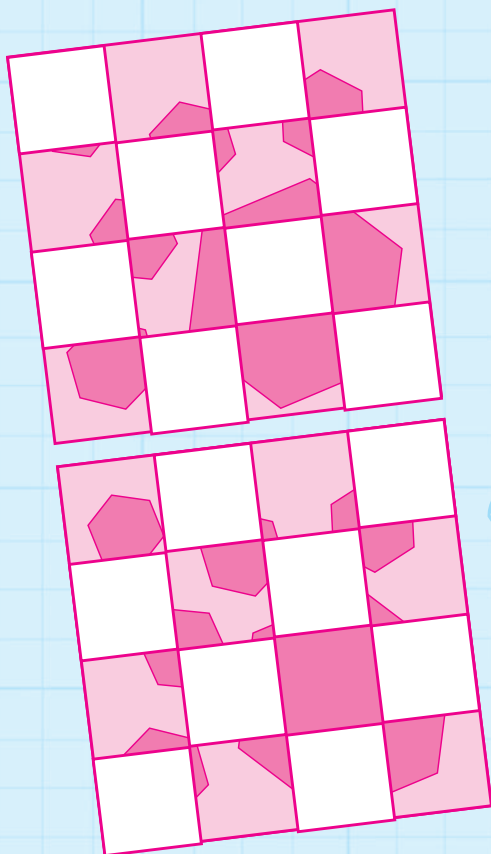
Све што ти је потребно за решавање ових мозгалица јесте мозак – а повремено и оловка. Већина се може решити без писања по књизи, али има неколико где је потребно забележити нешто или преписати задатак ако делиш ову књигу с другарима.

На крају књиге су решења да провериш одговоре или гвирнеш ако се баш збуниш! Али нећемо тако да се играмо, зар не?

Хајде да почнемо!



ПРВИ НИВО: Супермозак

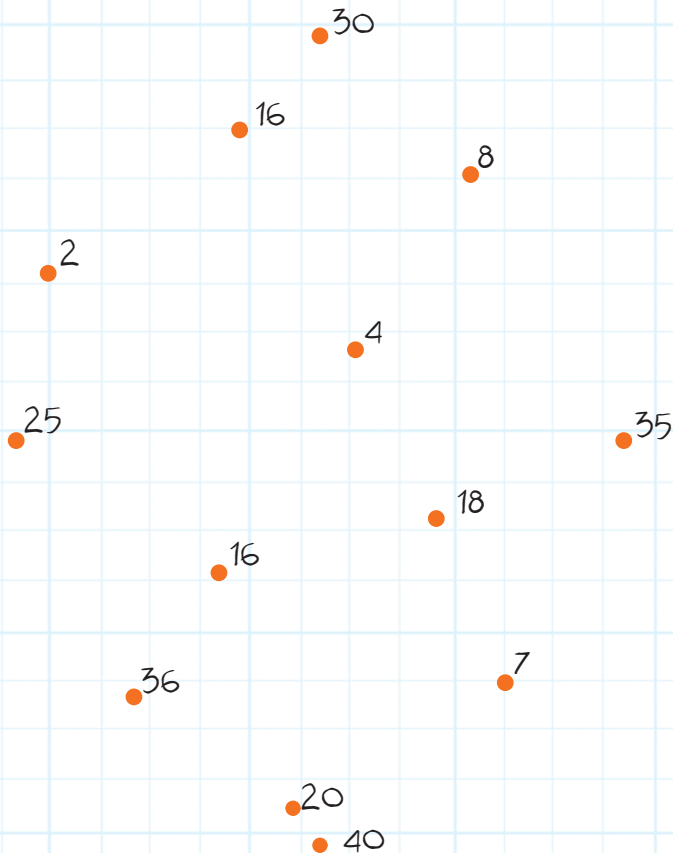


МОЗГАЛИЦА 1

Овај цртеж је двапут одштампан. Међутим, на доњем су други делови покривени белим пољима. Замисли да можеш да помешаш оба цртежа и добијеш целу слику. Колико би шестоугаоника било на њој?

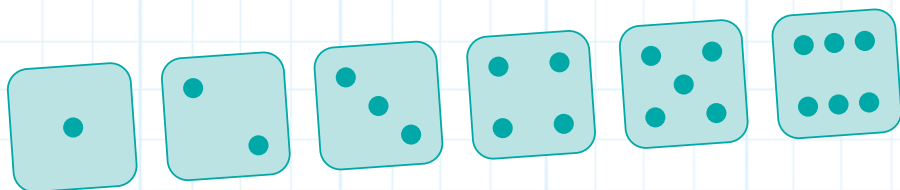
МОЗГАЛИЦА 2

Који ћеш облик добити ако линијама спојиш тачкице поред бројева који су дељиви са пет, почевши редом од најмањег ка највећем?

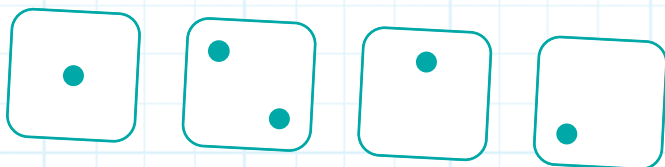


МОЗГАЛИЦА 3

Ево шест страна обичне плаве коцкице:



Неколико тачкица се обрисало с ових белих коцкица па нисмо сигурни који број показују:



А Који највећи збир можеш добити сабирањем све четири стране?

Б А који најмањи збир можеш добити сабирањем све четири стране?



МОЗГАЛИЦА 4

Посматрај овај низ слова 30 секунди
па га покриј листом папира или
другом књигом:

Д Б Ј Х К П М О З

Сад погледај овај низ. У њему су
иста слова, само што су написана
другачијим редоследом. Можеш ли на
другом листу папира да их забележиш
истим редом као у првом низу? Затим
погледај први низ да видиш колико те
памћење добро служи.

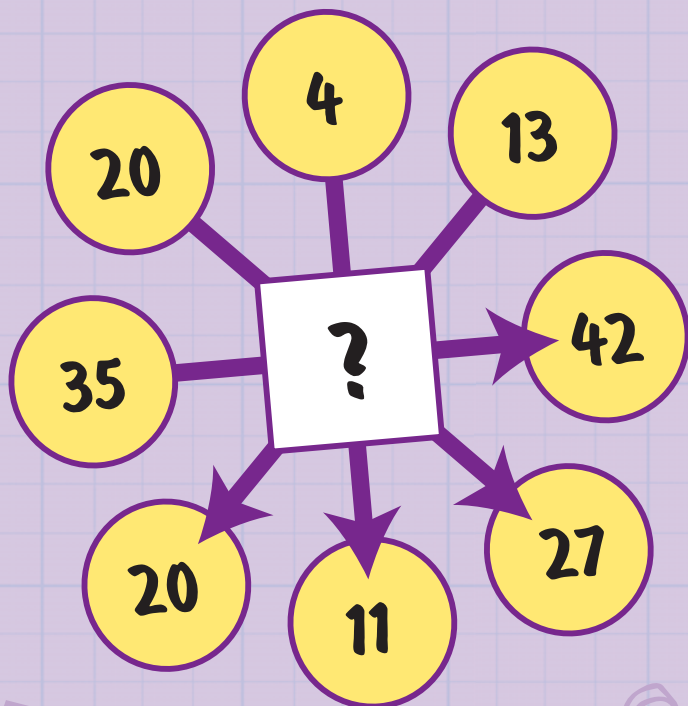
Б Д Х Ј К М О П З





МОЗГАЛИЦА 5

Можеш ли да прокључиш тајну везу која би требало да замени знак питања у средини? Он мења сваки број у онај наспрам њега, пратећи смер стрелица.



МОЗГАЛИЦА 6

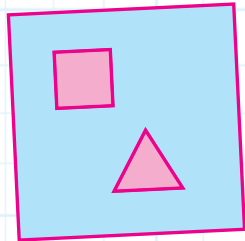


У већини нацртаних кутија, али ипак не у свим, налазе се другачији облици. Колико пари кутија има истоветне симболе?

А

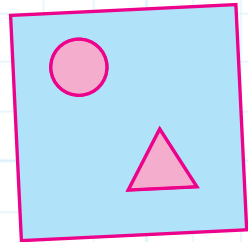


Б

В

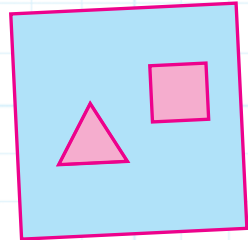


1

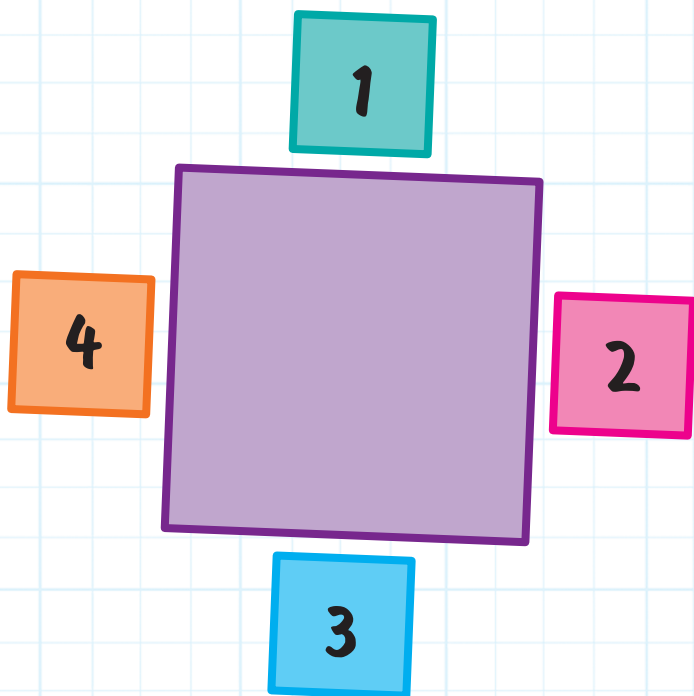


2



3





МОЗГАЛИЦА 7

Четворо ученика седи за квадратним столом, који је приказан из птичје перспективе.

Можеш ли да прокљувиш ко где седи?

- Ања седи преко пута Бранке.
- Саша седи лево од Ање.
- Данијел седи на месту 4.