

Кловнов костим има рупе. Споји сваку рупу са одговарајућим комадом тканине и правилно упиши слово у поља на дну странице. Тако ћеш сазнати како се клоун зове.



У

Б

А

Т

Љ

Д

Р


О

1	2	3	4	5	6	7	8
		А					



Решење:


ДРАГОЉУБ



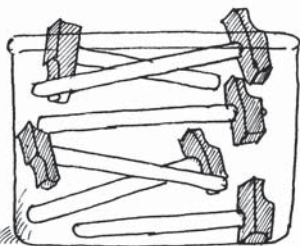
Господин Марић је у куповини. У свакој кутији прецртај онолико предмета колико је господин Марић извадио. Колико ствари је остало у свакој кутији?




$$7 - 3 = 4$$



$$14 - 3 = \underline{\quad}$$



$$6 - 1 = \underline{\quad}$$



$$19 - 12 = \underline{\quad}$$



$$16 - 3 = \underline{\quad}$$



$$9 - 2 = \underline{\quad}$$



$$12 - 9 = \underline{\quad}$$



$$13 - 2 = \underline{\quad}$$



Решење:



$$7 - 3 = 4$$

$$14 - 3 = 11$$

$$6 - 1 = 5$$

$$19 - 12 = 7$$

$$16 - 3 = 13$$


$$9 - 2 = 7$$

$$12 - 9 = 3$$

$$13 - 2 = 11$$

 $7 - 3 = 4$	 $14 - 3 = 11$	 $6 - 1 = 5$
 $19 - 12 = 7$	 $16 - 3 = 13$	 $9 - 2 = 7$
 $12 - 9 = 3$	 $13 - 2 = 11$	

Вештичица осликава свој чаробни тепих. Желиш ли да јој помогнеш? На сваком тепиху треба да се види двоструко више шара. Обоји шаре.



Решење:




На теписима треба да буде:

троуглова:  $5 + 5 = 10$


тачки:  $7 + 7 = 14$

ромбова:  $4 + 4 = 8$

прстенова:  $6 + 6 = 12$



Тома се игра са куглама на којима су бројеви помножени са два. Обоји истом бојом кугле и њима одговарајуће чунове. Једна кугла је вишак. Прецртај је.



Решење:



$$2 \cdot 2 = 4$$

$$3 \cdot 2 = 6$$

$$4 \cdot 2 = 8$$

$$5 \cdot 2 = 10$$

$$6 \cdot 2 = 12$$

$$7 \cdot 2 = 14$$

$$8 \cdot 2 = 16$$

$$9 \cdot 2 = 18$$

$$10 \cdot 2 = 20$$

Вишак је кугла са задатком  $1 \cdot 2$ , наине нема ниједног чуна са резултатом 2.